


Musikkunde 1

1.Hausübung

Name: _____


1. Setze deinen Notenschlüssel und schreibe eine Zeile Ganze Noten auf Linien, in Zwischenräume, auf, unter oder über verschiedene Hilfslinien!




2. Setze deinen Notenschlüssel und schreibe eine Zeile Halbe Noten auf Linien, in Zwischenräume, auf, unter oder über verschiedene Hilfslinien!




3. Setze deinen Notenschlüssel und schreibe eine Zeile Viertelnoten auf Linien, in Zwischenräume, auf, unter oder über verschiedene Hilfslinien!



4. Setze deinen Notenschlüssel und schreibe eine Zeile Achtelnoten auf Linien, in Zwischenräume, auf, unter oder über verschiedene Hilfslinien!



5. Setze deinen Notenschlüssel und schreibe eine Zeile Sechzehntelnoten auf Linien, in Zwischenräume, auf, unter oder über verschiedene Hilfslinien!



Beurteilung: _____